

# Patrulje løb nr. 2

Da vi stadig ikke kan mødes i spejderhuset, har jeg lavet endnu et lille løb til jer.

## Instruktion:

I skal finde svarene til spørgsmålene og så skrive dem/indsætte et billede i rækken der står "Svar".

Alle svarene på spørgsmålene, kan I finde ved at lede på nettet.

Hvis der står i skal gøre noget, så tag et billede af det og sæt det ind.

Den bedste patrulje vinder årets hjemmespejder-sølvplade til patruljestanderen.

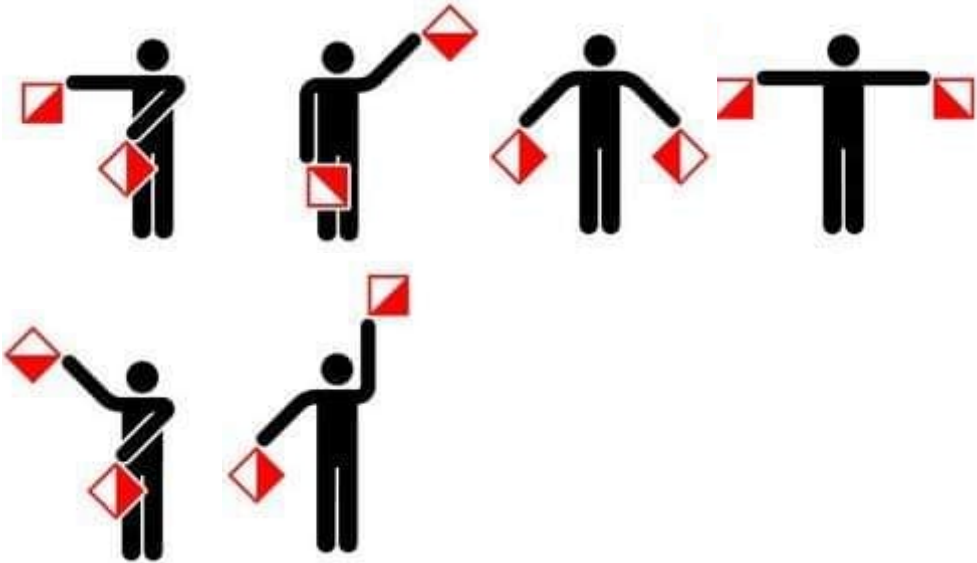


Patruljen skal selv fordele opgaverne imellem spejderne. I må gerne få alt den hjælp I kan få, men det er ikke sikkert lederne vil give jer svaret, måske bare hvor I skal lede. :-)





Jeg håber I synes det har været en sjov tur rundt på internettet, steder I måske ikke kendte, men kan bruge en anden gang.

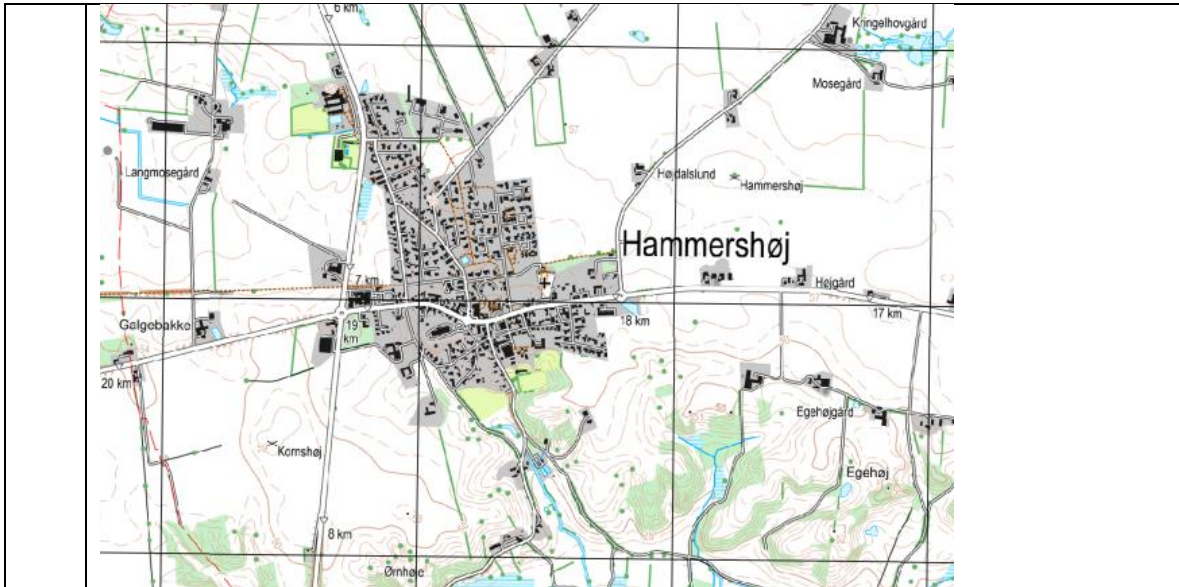
Spejderhilsen

Henrik

## Opgaverne:

Nr.	Opgave
1	Oversæt: (mellemrum mellem bogstaver, / mellem ord) ... / ... / ...
2	Udtag UTM-kordinat på spejderhuset i Hammershøj
3	Oversæt morsekode her: <a href="https://morsecode.world/m/eJxdT9sRACAlusr_VmPURmuEMku47nplIFJtvQQzAH7u- yzHsYMZJvggkFA0i69XmSegA3y8puKAWdlnTbDJIEkEvvUghP_b7CBkVgtl61wTg%3D%3D">https://morsecode.world/m/eJxdT9sRACAlusr_VmPURmuEMku47nplIFJtvQQzAH7u- yzHsYMZJvggkFA0i69XmSegA3y8puKAWdlnTbDJIEkEvvUghP_b7CBkVgtl61wTg%3D%3D</a>
4	Hvad bliver der signaleret her? 
5	Lav en tidsplan for 30 minutter af et patruljemøde, ud fra et emne du/i selv bestemmer
6	Skriv tre regler for at bruge kniv:
7	Hvad hedder Baden Powells mor?
8	Bind en Abehånd og tag et billede af den.
9	Bind et råbåndsknob og et flagknob og tag et billede af dem.
10	Hvilke tre dele skal der bruges for at lave ild?
11	Nævn fire dele på et kompas:
12	Hvilke to dyr har gået her: 
13	Hvad betyder dette mærke? 

14	<p>Hvilket dyr har spist kogle til venstre og hvilket har spist det til højre?</p> 
15	<p>Hvad hedder dette fokusermærke?</p> 
16	<p>Hvilket Spejderkorps bruger disse mærker:</p> 
17	<p>Hvad betyder dette signatur på et 4 cm. Kort?</p> 
18	<p>Hvor langt er der fra Hammershøj til Korshøj?  Mosegård til Hammershøj  Kringelhovedgård til Langmosegård?  Rundkørslen i Hammershøj til Kirken?  Galgebakke til Egehøjgård  Hvor høj er Kornshøj?  Hvor langt er der langs vej mellem de to rundkørsler uden for Hammershøj?</p>



19	Tag et billede af fem forskellige dyr og navngiv dem
20	Gør en god gerning hjemme ved familien og lad en anden i familien tage et billede af det